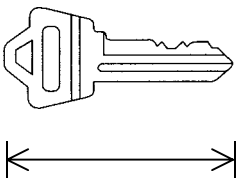
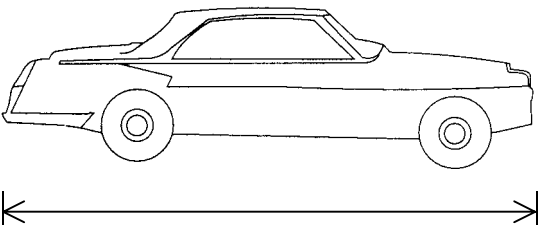
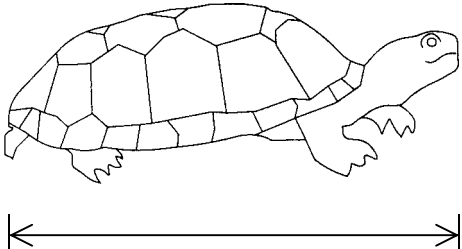


請用指距量度以下物件的長度：

學生書桌的長度	約 _____ 指距
數學課本的長度	約 _____ 指距

請用厘米尺量度以下物件的長度：

	<p>_____ 厘米</p>
	<p>_____ 厘米</p>
	<p>_____ 厘米</p>

先估計、後量度以下物件的長度（以厘米為單位）：

	估計結果（厘米）	量度結果（厘米）
鉛筆		
飲管		
粉筆		
擦膠		