

專題報告 - 香港與鄰近地區的天氣比較




姓名：	(學號：)	班別：	日期：
-----	--------	-----	-----

天文台網頁(http://www.weather.gov.hk/contentc_new.htm)

- ☺ 同學利用網頁資料(先選「天氣資料」，然後選「部分大城市氣候資料」)，選擇一鄰近地區城市，如新加坡。
- ☺ 根據該地區的氣溫平均(包括日最高氣溫平均—記錄該月內每日的最高氣溫，然後取其平均，以及日最低氣溫平均—記錄該月內每日的最低氣溫，然後取其平均)和降水量與香港的資料分別作比較。

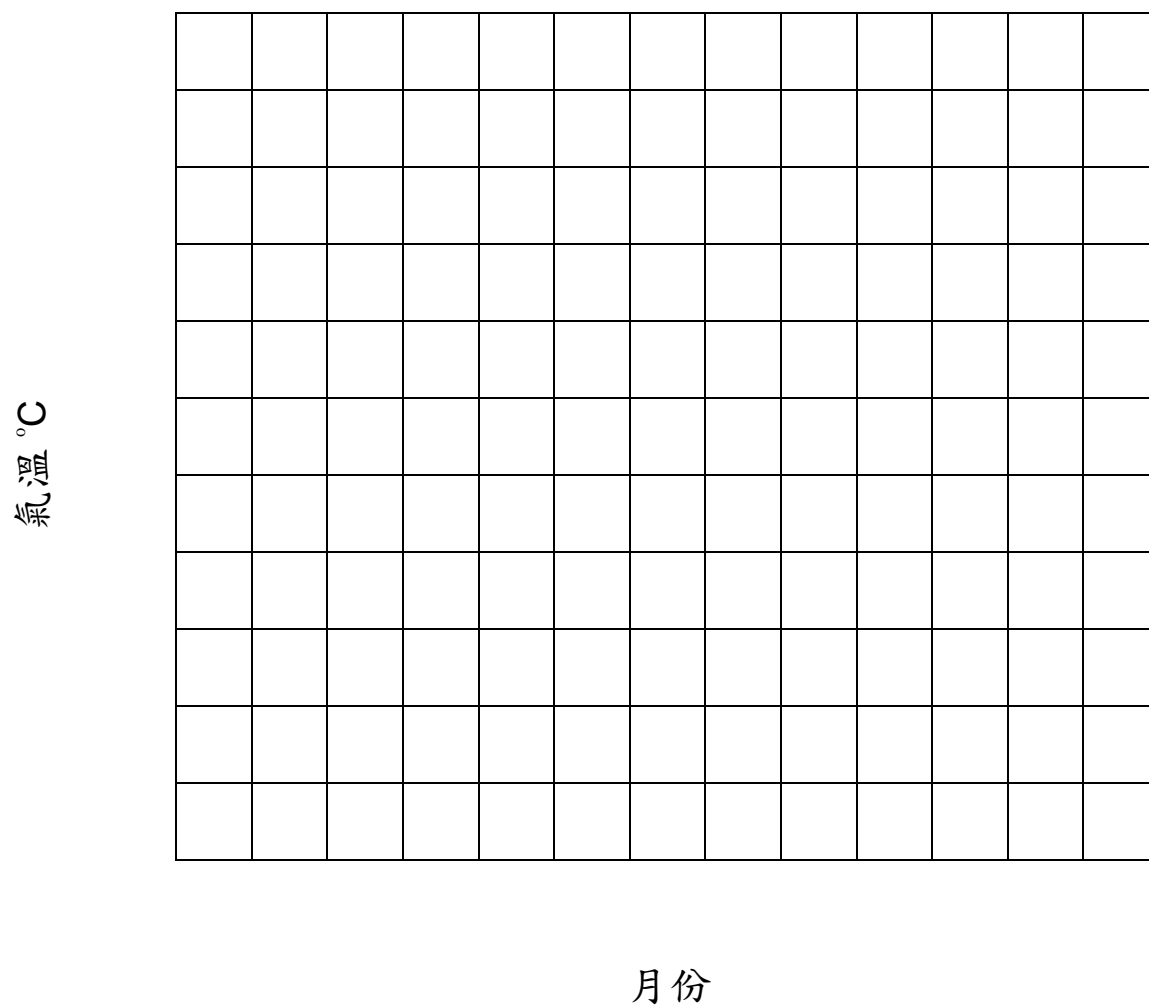
1. 用折線圖表示十二個月內香港與新加坡的「日最高氣溫平均」

氣溫 °C

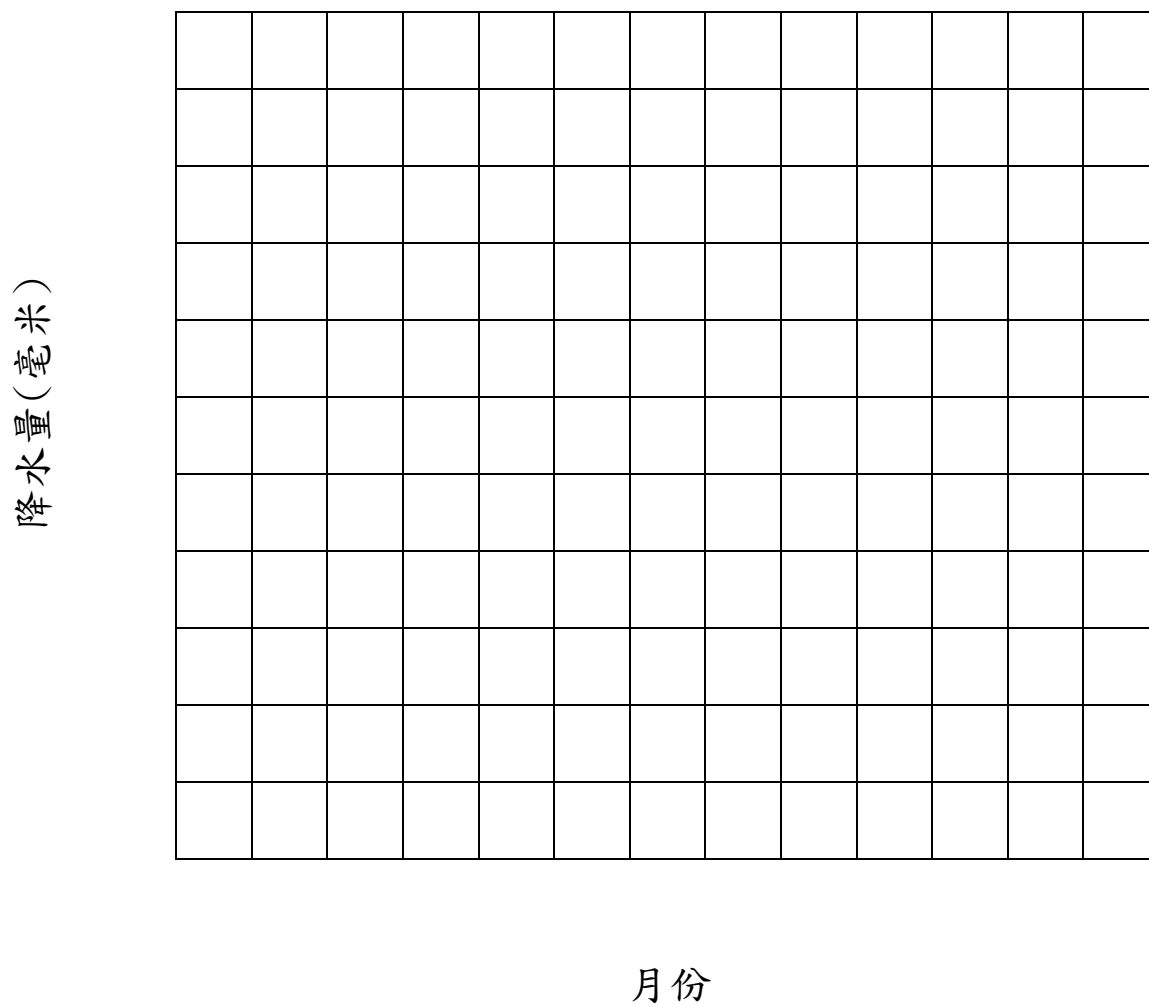


月份

2. 用折線圖表示十二個月內香港與新加坡的「日最低氣溫平均」



3. 用複合棒形圖表示十二個月內香港與新加坡的「降水量」



4. 香港在 _____ 的氣溫與新加坡差不多，但其餘月份
香港的氣溫則較新加坡氣溫為 (高 / 低)* 。香港在
_____ 的雨量較新加坡 (多 / 少)* ，但其餘月
份則較新加坡 (多 / 少)* 。

* 請刪去不適用的