

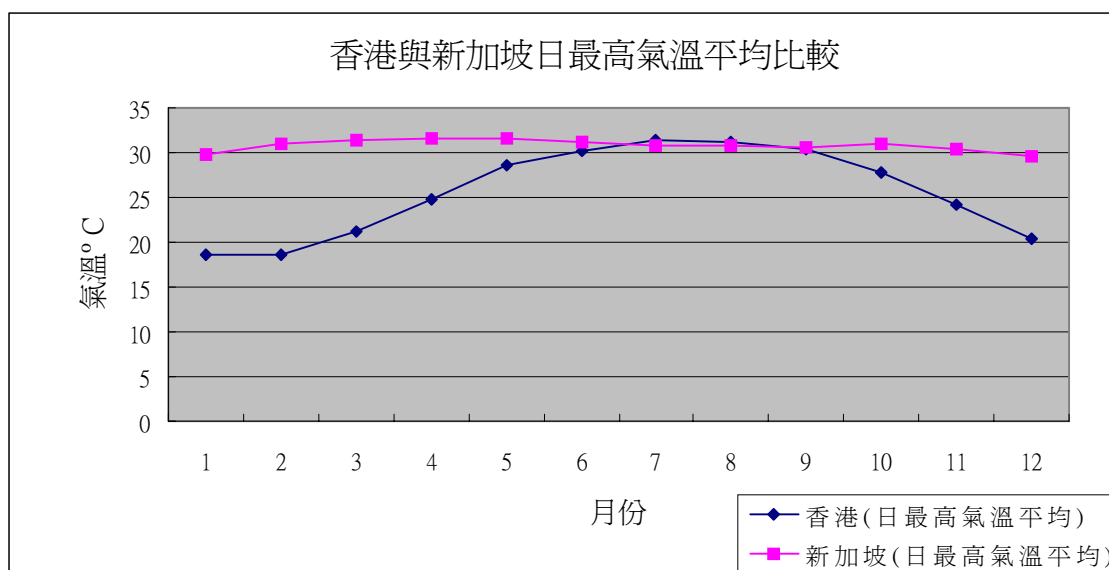
## 專題報告 - 香港與鄰近地區的天氣比較

姓名：	(學號： )	班別：	日期：
-----	--------	-----	-----

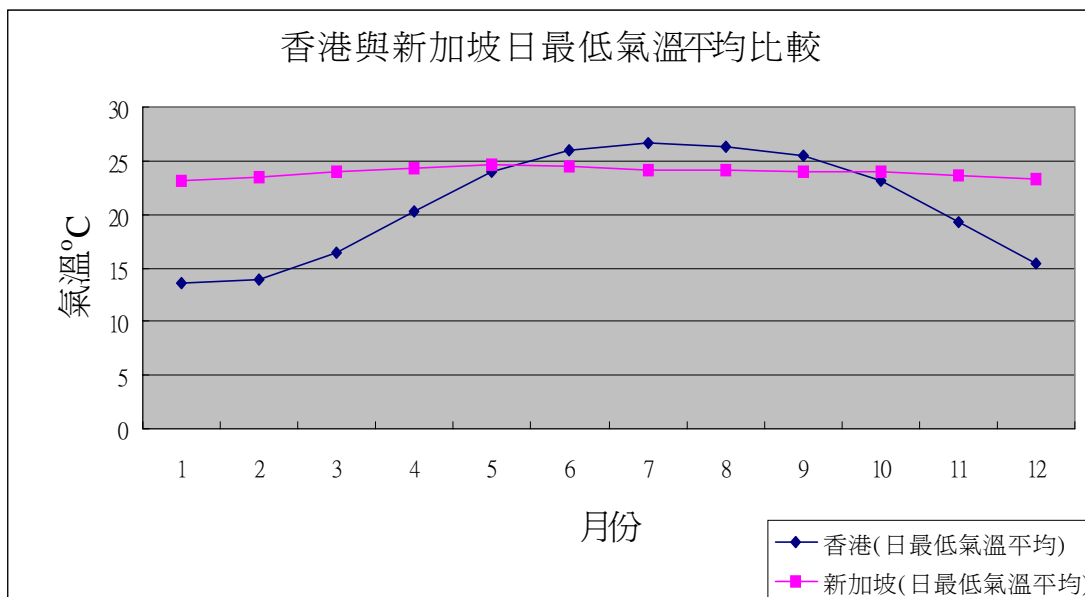
天文台網頁([http://www.weather.gov.hk/contentc\\_new.htm](http://www.weather.gov.hk/contentc_new.htm))

- ☺ 同學利用網頁資料(先選「天氣資料」，然後選「部分大城市氣候資料」)，選擇一鄰近地區城市，如新加坡。
- ☺ 根據該地區的氣溫平均(包括日最高氣溫平均 — 記錄該月內每日的最高氣溫，然後取其平均，以及日最低氣溫平均 — 記錄該月內每日的最低氣溫，然後取其平均)和降水量與香港的資料分別作比較。

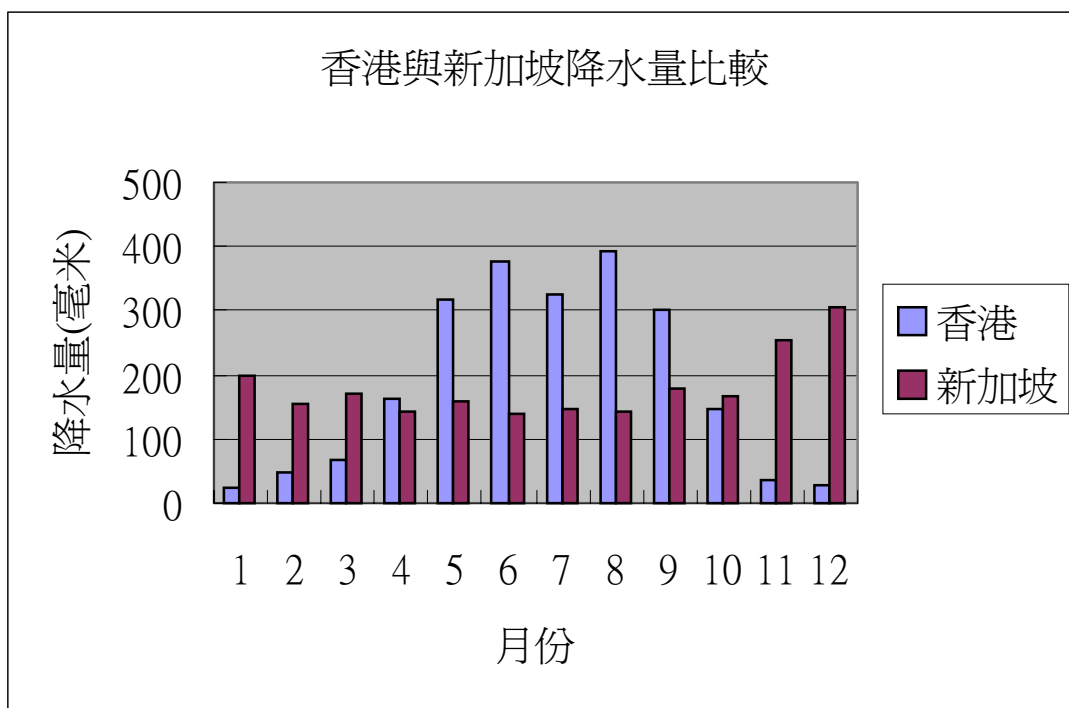
1. 用折線圖表示十二個月內香港與新加坡的「日最高氣溫平均」



2. 用折線圖表示十二個月內香港與新加坡的「日最低氣溫平均」



3. 用複合棒形圖表示十二個月內香港與新加坡的「降水量」



4. 香港在 六至九月 的氣溫與新加坡差不多，但其餘月份香港的氣溫則較新加坡氣溫為 ( ~~高~~ / 低 )<sup>\*</sup>。香港在 四至九月 的雨量較新加坡 ( 多 / ~~少~~ )<sup>\*</sup>，但其餘月份則較新加坡 ( ~~多~~ / 少 )<sup>\*</sup>。

或[香港在 一至三月 和 十至十二月 的雨量較新加坡 ( ~~多~~ / 少 )<sup>\*</sup>，但其餘月份則較新加坡 ( 多 / ~~少~~ )<sup>\*</sup>。]  
皆可。

\* 請刪去不適用的

(答案僅供參考)