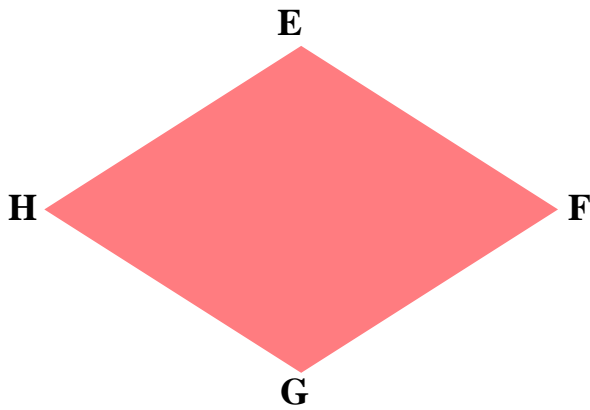



課堂練習 – 對邊、對角、對角線

1. 在橫線上填寫答案及用兩種不同顏色的筆畫上對邊。



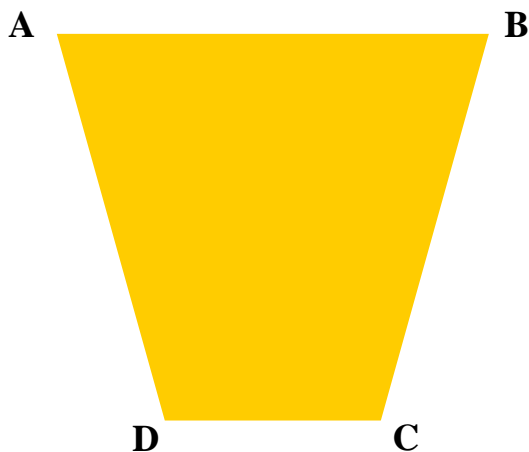
EF 和 _____ 是一組對邊
 _____ 和 _____ 是另一組對邊

2. 在橫線上填寫答案及用兩種不同顏色的筆畫上對角。



∠A 和 _____ 是一組對角
 _____ 和 _____ 是另一組對角

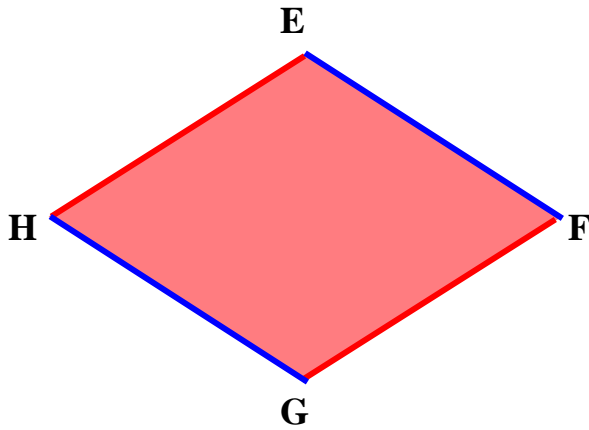
3. 在橫線上填寫答案及用兩種不同顏色的筆畫上對角線。



BD 是一條對角線
 _____ 是另一條對角線

課堂練習 – 對邊、對角、對角線 (答案)

1. 在橫線上填寫答案及用兩種不同顏色的筆畫上對邊。



EF 和 HG 是一組對邊

HE 和 GF 是另一組對邊

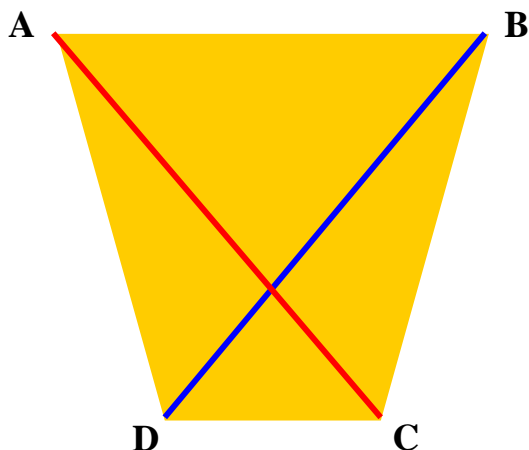
2. 在橫線上填寫答案及用兩種不同顏色的筆畫上對角。



A 和 C 是一組對角

B 和 D 是另一組對角

3. 在橫線上填寫答案及用兩種不同顏色的筆畫上對角線。



BD 是一條對角線

AC 是另一條對角線